

<b>Time: 40 Minutes</b>	<b>Paper Math 3</b>	<b>Total Marks: 25</b>
6th Month, 4th Week, 5th Day		<b>Syllabus: Revision Test (4th Week)</b>

**Q.1. Prepare carrol diagram from the given data. (10)**

دیئے گئے ڈیٹا سے کیروں ڈایا گرام بنائیں۔

12, 15, 16, 18, 17, 19, 21, 23, 28, 30, 32, 37, 39

	Even numbers جفت اعداد	Odd numbers طاق اعداد
Numbers less than 20 20 سے چھوٹے اعداد		
Numbers greater than 20 20 سے بڑے اعداد		

**Q.2. Observe the following Tally chart and answer the following questions:**

(10) مندرجہ ذیل ٹیلی چارٹ کا مشاہدہ کر کے درج ذیل سوالات کے جوابات لکھیں۔

Subjects	Tally marks
Urdu	
Science	
English	
Mathematics	
General Knowledge	

(i) Which subject is the least favourite?

کون سا مضمون سب سے کم پسندیدہ ہے؟

(ii) Which subject is the most favourite?

کون سا مضمون سب سے زیادہ پسندیدہ ہے؟

(iii) How many students like Science?

کتنے طالب علم سائنس پسند کرتے ہیں؟

(iv) How many students like Urdu?

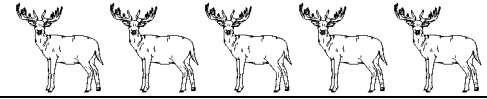



کتنے طالب علم اردو پسند کرتے ہیں؟

(v) How many students like Mathematics?

کتنے طالب علم ریاضی پسند کرتے ہیں؟

**Q.3. Answer the following questions by using the picture graph: (5)**  
(1 picture = 2 animals)

تصویری گراف کی مدد سے درج ذیل سوالات کے جوابات لکھیں۔ (ایک تصویر = 2 جانور)

Deer	
Elephant	
Monkey	
Cheetah	

(i) Which animal is the greatest in number?

کون سا جانور تعداد میں سب سے زیادہ ہے؟

(ii) Which animal is the least in number?

کون سا جانور تعداد میں سب سے کم ہے؟

(iii) What is the total number of elephants and monkeys?

ہاتھیوں اور بندروں کی کل تعداد لکھیں۔

(iv) What is the total number of all animals?

تمام جانوروں کی کل تعداد کتنی ہے؟